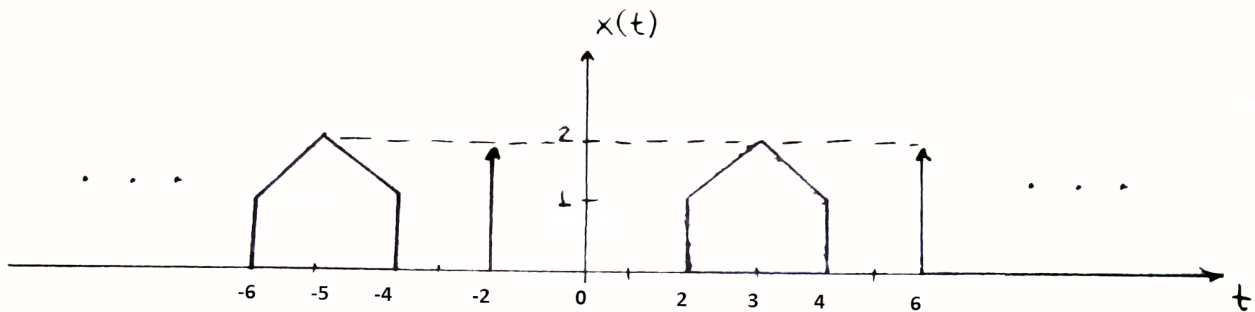


# Επαναληπτικά/Προχωρημένα Θέματα Σημάτων και Συστημάτων

Επιμέλεια: Γιώργος Π. Καφεντζής  
Υποψ. Διδ. Τμήμ. Η/Υ  
Πανεπιστήμιο Κρήτης

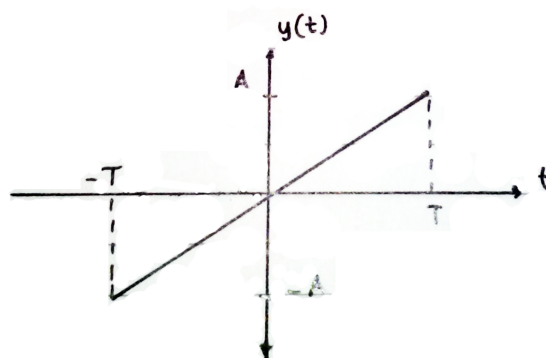
19 Ιουνίου 2013

1. Έστω το παρακάτω περιοδικό με περίοδο  $T_0$  σήμα  $x(t)$  (γνωστό και ως περιοδικό, μικρό σπίτι στο λιβάδι) του Σχήματος 1.



Σχήμα 1: Περιοδικό μικρο σπίτι στο λιβάδι

- (α) Υπολογίστε το μετασχ. Fourier,  $X_{T_0}(\omega)$  για τη βασική περίοδο του σήματος.  
(β) Βρείτε τη Σειρά Fourier για το περιοδικό σήμα του Σχήματος 1.  
(γ) Έστω το σήμα  $y(t) \longleftrightarrow Y(\omega)$  όπως φαίνεται στο Σχήμα 2, και έστω  $Z(\omega) = \omega Y(\omega)$ . Βρείτε το  $z(t)$ .



Σχήμα 2: Μη περιοδικό σήμα

(δ') Υπολογίστε τα

i.  $\mathbf{Y}(\mathbf{0})$

ii.  $\int_{-\infty}^{\infty} \mathbf{Y}(\omega) d\omega$

iii.  $\int_{-\infty}^{\infty} |\mathbf{Y}(\omega)|^2 d\omega$

(ε') Έστω το σήμα εισόδου

$$w(t) = 2 \cos(50\pi t) - \cos(60\pi t) - \frac{1}{2} \sin(80\pi t + \pi/2)$$

i. Βρείτε την ελάχιστη συχνότητα δειγματοληψίας,  $\Omega_s$ , για την ανάκτηση του αναλογικού σήματος από τα δείγματά του.

ii. Για την παραπάνω συχνότητα, βρείτε το σήμα διακριτού χρόνου,  $w[n] = w(\frac{2\pi}{\Omega_s} n)$ .

Λύση:

(α') Η βασική περίοδος  $T_0$  του σήματος είναι προφανώς  $T_0 = 8$ . Ας επιλέξουμε την περίοδο από 0 ως 8. Το σήμα αυτό μπορεί να συντεθεί από κάποια βασικά, γνωστά μας σήματα (τετραγωνικός και τριγωνικός παλμός, και συνάρτηση Δέλτα). Άρα

$$x_{T_0}(t) = \text{rect}\left(\frac{t-3}{2}\right) + \text{tri}\left(\frac{t-3}{1}\right) + 2\delta(t-6)$$

Ο μετασχ. Fourier δίνεται εύκολα από γνωστά μας ζεύγη:

$$\begin{aligned} X_{T_0}(\omega) &= 2\text{sinc}\left(\frac{2\omega}{2\pi}\right)e^{-j3\omega} + \text{sinc}^2\left(\frac{\omega}{2\pi}\right)e^{-j3\omega} + 2e^{-j6\omega} \\ &= 2\text{sinc}\left(\frac{\omega}{\pi}\right)e^{-j3\omega} + \text{sinc}^2\left(\frac{\omega}{2\pi}\right)e^{-j3\omega} + 2e^{-j6\omega} \\ &= e^{-j3\omega}\left(2\text{sinc}\left(\frac{\omega}{\pi}\right) + \text{sinc}^2\left(\frac{\omega}{2\pi}\right) + 2e^{-j3\omega}\right) \end{aligned} \quad (1)$$

(β') Έχουμε δει ότι άλλο ένα εργαλείο υπολογισμού των σειρών Fourier, είναι μέσω του μετασχηματισμού Fourier. Υπολογίζουμε το μετασχ. Fourier ΜΙΑΣ περιόδου του σήματος, και μετά τον δειγματοληπτούμε ανά ακέραια πολλαπλάσια του  $\frac{2\pi}{T_0}$ , δηλ. του  $\omega_0$ . Με άλλα λόγια, μπορούμε από το φάσμα του μετασχ. Fourier, να βρούμε τους συντελεστές Fourier για οποιαδήποτε περίοδο του αντίστοιχου περιοδικού σήματος! Αυτό που συμβαίνει είναι ότι απλά δειγματοληπτούμε σε διαφορετικές αποστάσεις το φάσμα του μετασχηματισμού Fourier. Άρα θα έχουμε ότι

$$\begin{aligned} X[k] &= \frac{1}{T_0} X_{T_0}(\omega) \Big|_{\omega=\frac{2\pi k}{T_0}} = \frac{1}{T_0} e^{-j3\omega} \left( 2\text{sinc}\left(\frac{\omega}{\pi}\right) + \text{sinc}^2\left(\frac{\omega}{2\pi}\right) + 2e^{-j3\omega} \right) \Big|_{\omega=\frac{2\pi k}{T_0}=\frac{k\pi}{4}} \\ &= \frac{1}{T_0} e^{-j3k\pi/4} \left( 2\text{sinc}\left(\frac{k\pi/4}{\pi}\right) + \text{sinc}^2\left(\frac{k\pi/4}{2\pi}\right) + 2e^{-j3k\pi/4} \right) \\ &= \frac{1}{8} e^{-j3k\pi/4} \left( 2\text{sinc}\left(\frac{k}{4}\right) + \text{sinc}^2\left(\frac{k}{8}\right) + 2e^{-j3k\pi/4} \right) \end{aligned} \quad (2)$$

(γ') Έχουμε

$$Z(\omega) = \omega Y(\omega) \iff jZ(\omega) = j\omega Y(\omega) \iff jz(t) = \frac{d}{dt}y(t) \iff z(t) = -j\frac{d}{dt}y(t) \quad (3)$$

Άρα το  $z(t)$  δεν είναι άλλο από την παράγωγο του  $y(t)$ , πολλαπλασιασμένη με  $-j$ . Το  $y(t)$  προφανώς περιγράφεται ως

$$y(t) = \begin{cases} \frac{A}{T}t, & -T \leq t \leq T \\ 0, & \text{αλλού} \end{cases}$$

και άρα, δεδομένου ότι έχουμε ασυνέχειες στα άκρα του σήματος, θα είναι

$$\frac{d}{dt}y(t) = -A\delta(t+T) + \frac{A}{T}\text{rect}\left(\frac{t}{2T}\right) - A\delta(t-T)$$

και τελικά

$$z(t) = -j\frac{d}{dt}y(t) = jA\left(\delta(t+T) - \frac{1}{T}\text{rect}\left(\frac{t}{2T}\right) + \delta(t-T)\right) \quad (4)$$

(δ') Θα είναι

i.

$$Y(0) = \int_{-\infty}^{\infty} y(t)e^{-j\omega t} dt \Big|_{\omega=0} = \int_{-\infty}^{\infty} y(t) dt = \int_{-T}^T \frac{A}{T}t dt = \frac{A}{T} \frac{t^2}{2} \Big|_{-T}^T = 0 \quad (5)$$

ii.

$$\int_{-\infty}^{\infty} Y(\omega) d\omega = \int_{-\infty}^{\infty} Y(\omega)e^{j\omega t} d\omega \Big|_{t=0} = 2\pi y(t) \Big|_{t=0} = 2\pi y(0) = 0 \quad (6)$$

iii.

$$\begin{aligned} \int_{-\infty}^{\infty} |Y(\omega)|^2 d\omega &= 2\pi \int_{-\infty}^{\infty} |y(t)|^2 dt = 2\pi \int_{-T}^T \left(\frac{A}{T}\right)^2 t^2 dt = 2\pi \left(\frac{A}{T}\right)^2 \frac{t^3}{3} \Big|_{-T}^T \\ &= 2\pi \left(\frac{A}{T}\right)^2 \frac{2T^3}{3} = 2\pi \frac{2A^2T^3}{3T^2} = \frac{4\pi A^2T}{3} \end{aligned} \quad (7)$$

(ε') Θα έχουμε:

i. η ελάχιστη συχνότητα δειγματοληψίας ισούται με  $\Omega_s = 2\Omega_{max}$ , όπου  $\Omega_{max}$  η μέγιστη συχνότητα του σήματος. Η μέγιστη συχνότητα του σήματος είναι η  $\Omega_s = 80\pi$ . Άρα η ελάχιστη συχνότητα δειγματοληψίας είναι ίση με

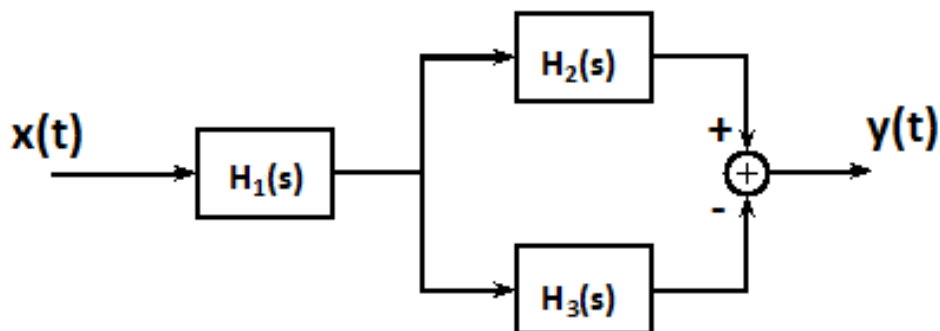
$$\Omega_s = 160\pi \quad (8)$$

ii. Το σήμα διακριτού χρόνου ισούται με

$$\begin{aligned} w[n] &= w(nT_s) = w\left(\frac{2\pi}{\Omega_s}n\right) = w\left(\frac{1}{80}n\right) \\ &= 2\cos\left(50\pi\frac{1}{80}n\right) - \cos\left(60\pi\frac{1}{80}n\right) - \frac{1}{2}\sin\left(120\pi\frac{1}{80}n + \pi/2\right) \\ &= 2\cos\left(\frac{5\pi}{8}n\right) - \cos\left(\frac{3\pi}{4}n\right) - \frac{1}{2}\sin\left(\frac{3\pi}{2}n + \pi/2\right) \end{aligned} \quad (9)$$

που είναι και το ζητούμενο.

2. Έστω το ευσταθές σύστημα,  $H(s)$ , του Σχήματος 3, όπου



Σχήμα 3: Σύστημα

$$H_1(s) = \frac{1}{(s-1)(s-2)}, \quad H_2(s) = \frac{s}{s+2}, \quad H_3(s) = \frac{s-1}{s+1}$$

- (α) Βρείτε το συνολικό σύστημα  $H(s)$  και το πεδίο σύγκλισής του,  $R_H$ .
- (β) Βρείτε την κρουστική απόκριση του συνολικού συστήματος,  $h(t)$ .
- (γ) Εξετάστε, χωρίς γνώση του συνολικού συστήματος, πότε τα συστήματα  $H_1(s)$  είναι ευσταθή, αιτιατά, και αντιστρέψιμα.
- (δ) Βρείτε τις επιμέρους κρουστικές αποκρίσεις των συστημάτων  $h_i(t)$ , έχοντας γνώση της ευστάθειας του συνολικού συστήματος.
- (ε) Γράψτε το  $H(s)$  ως γινόμενο δυο συστημάτων: ενός συστήματος Ελάχιστης Φάσης  $H_{\min}(s)$ , και ενός συστήματος All-pass,  $H_{\text{ap}}(s)$ .
- (ς) Υπολογίστε το μετασχ. Fourier του συνολικού συστήματος,  $H(\omega)$ , και δείξτε ότι  $H(\omega) \leq \frac{1}{2}$ .
- (ζ) Υπολογίστε και σχεδιάστε την απόκριση πλάτους,  $|H_3(\omega)|$ , του συστήματος  $H_3(s)$ .

Λύση:

(α) Το συνολικό σύστημα θα είναι

$$\begin{aligned}
 H(s) &= H_1(s) \left( H_2(s) - H_3(s) \right) \\
 &= \frac{1}{(s-1)(s-2)} \left( \frac{s}{s+2} - \frac{s-1}{s+1} \right) \\
 &= \frac{1}{(s-1)(s-2)} \frac{s(s+1) - (s-1)(s+2)}{(s+2)(s+1)} \\
 &= \frac{1}{(s-1)(s-2)} \frac{s^2 + s - (s^2 - s + 2s - 2)}{(s+1)(s+2)} \\
 &= \frac{1}{(s-1)(s-2)} \frac{2}{(s+1)(s+2)} \\
 &= \frac{2}{(s-1)(s+1)(s-2)(s+2)} \tag{10}
 \end{aligned}$$

και επειδή το συνολικό σύστημα είναι ευσταθές, το πεδίο σύγκλισης θα είναι το

$$R_H = \{-1 < \Re\{s\} < 1\} \quad (11)$$

(β') Το συνολικό σύστημα  $H(s)$  μπορεί να γραφτεί ως

$$H(s) = \frac{2}{(s-1)(s+1)(s-2)(s+2)} = \frac{A}{s-1} + \frac{B}{s+1} + \frac{C}{s-2} + \frac{D}{s+2}$$

με

$$\begin{aligned} A &= H(s)(s-1)|_{s=1} = \frac{2}{(s+1)(s-2)(s+2)}|_{s=1} = -\frac{1}{3} \\ B &= H(s)(s+1)|_{s=-1} = \frac{2}{(s-1)(s-2)(s+2)}|_{s=-1} = \frac{1}{3} \\ C &= H(s)(s-2)|_{s=2} = \frac{2}{(s-1)(s+1)(s+2)}|_{s=2} = \frac{1}{6} \\ D &= H(s)(s+2)|_{s=-2} = \frac{2}{(s-1)(s+1)(s-2)}|_{s=-2} = -\frac{1}{6} \end{aligned}$$

και άρα

$$H(s) = -\frac{1}{3} \frac{1}{s-1} + \frac{1}{3} \frac{1}{s+1} + \frac{1}{6} \frac{1}{s-2} - \frac{1}{6} \frac{1}{s+2}$$

και επειδή το πεδίο σύγκλισης  $R_H$  μπορεί να γραφεί ως

$$R_H = \{-1 < \Re\{s\} < 1\} = \{\Re\{s\} > -2\} \cap \{\Re\{s\} > -1\} \cap \{\Re\{s\} < 1\} \cap \{\Re\{s\} < 2\}$$

θα έχουμε

$$\begin{aligned} H(s) \longleftrightarrow h(t) &= \frac{1}{3}e^t u(-t) + \frac{1}{3}e^{-t} u(t) - \frac{1}{6}e^{2t} u(-t) - \frac{1}{6}e^{-2t} u(t) \\ &= \left(\frac{1}{3}e^t - \frac{1}{6}e^{2t}\right) u(-t) + \left(\frac{1}{3}e^{-t} - \frac{1}{6}e^{-2t}\right) u(t) \end{aligned} \quad (12)$$

(γ') Για το  $H_1(s) = \frac{1}{(s-1)(s-2)}$ , βλέπουμε ότι έχει πόλους στις θέσεις  $p = 1, 2$ , άρα για να είναι ευσταθές, πρέπει να ισχύει  $\Re\{s\} < 1$ . Για να είναι αιτιατό, πρέπει  $\Re\{s\} > 2$ . Το αντίστροφο του είναι το

$$H_1^{inv}(s) = (s-1)(s-2) \quad (13)$$

το οποίο είναι ευσταθές και αιτιατό σε ολο το  $s$ -επίπεδο.

Για το  $H_2(s) = \frac{s}{s+2}$ , βλέπουμε ότι έχει πόλους στη θέση  $s = -2$ , και άρα είναι ευσταθές όταν  $\Re\{s\} > -2$ , και το ίδιο πρέπει να ισχύει για να είναι και αιτιατό. Το αντίστροφο του είναι το

$$H_2^{inv}(s) = \frac{s+2}{s} \quad (14)$$

το οποίο έχει δυο δυνατά πεδία σύγκλισης,  $\Re\{s\} > 0$  και  $\Re\{s\} < 0$ . Προσέξτε, σε περίπτωση που το  $H_2(s)$  έχει πεδίο σύγκλισης  $R_{H_2} = \{\Re\{s\} < -2\}$ , είναι δηλαδή ασταθές και αντι-αιτιατό, τότε ορίζεται αντίστροφο σύστημα μόνον όταν αυτό έχει πεδίο σύγκλισης το  $R_{H_2^{inv}} = \{\Re\{s\} < 0\}$ , γιατί σε αντίθετη περίπτωση δεν υπάρχει επικάλυψη με το πεδίο σύγκλισης του  $H_2(s)$ .

Για το  $H_3(s) = \frac{s-1}{s+1}$ , βλέπουμε ότι έχει έναν πόλο στη θέση  $s = -1$ , άρα για να είναι ευσταθές πρέπει να ισχύει  $\Re\{s\} > -1$ , ενώ το ίδιο πρέπει να ισχύει και για αιτιατότητα. Το αντίστροφο του είναι το

$$H_3^{inv}(s) = \frac{s+1}{s-1} \quad (15)$$

το οποίο έχει δυο δυνατά πεδία σύγκλισης,  $\Re\{s\} > 1$  και  $\Re\{s\} < 1$ . Κι εδώ προσέξτε, όπως και πριν, σε περίπτωση που το  $H_3(s)$  έχει πεδίο σύγκλισης  $R_{H_3} = \{\Re\{s\} < -1\}$ , είναι δηλαδή ασταθές και αντι-αιτιατό, τότε ορίζεται αντίστροφο σύστημα μόνον όταν αυτό έχει πεδίο σύγκλισης το  $R_{H_3^{inv}} = \{\Re\{s\} < 1\}$ , γιατί σε αντίθετη περίπτωση δεν υπάρχει επικάλυψη με το πεδίο σύγκλισης του  $H_3(s)$ .

(δ') Δεδομένου ότι το συνολικό σύστημα είναι ευσταθές, και ότι προκύπτει από τομές των επιμέρους συστημάτων, τα επιμέρους συστήματα πρέπει να είναι ευσταθή. Άρα τα πεδία σύγκλισης θα είναι

$$R_{H_1} = \{\Re\{s\} < 1\}, \quad R_{H_2} = \{\Re\{s\} > -2\}, \quad \text{και} \quad R_{H_3} = \{\Re\{s\} > -1\} \quad (16)$$

Άρα θα είναι

$$H_1(s) = \frac{1}{(s-1)(s-2)}, \quad \Re\{s\} < 1 \longleftrightarrow h_1(t) = L^{-1}\left\{\frac{-1}{s-1} + \frac{1}{s-2}\right\} \\ = e^t u(-t) - e^{2t} u(-t) \quad (17)$$

$$H_2(s) = \frac{s}{s+2}, \quad \Re\{s\} < -2 \longleftrightarrow h_2(t) = L^{-1}\left\{s \frac{1}{s+2}\right\} \\ = \frac{d}{dt} e^{2t} u(-t) \\ = 2e^{2t} u(-t) - \delta(t) \quad (18)$$

$$H_3(s) = \frac{s-1}{s+1}, \quad \Re\{s\} > -1 \longleftrightarrow h_3(t) = L^{-1}\left\{\frac{s-1}{s+1}\right\} \\ = L^{-1}\left\{s \frac{1}{s+1} - \frac{1}{s+1}\right\} \\ = \left(\frac{d}{dt} e^{-t} u(t)\right) - e^{-t} u(t) \\ = \delta(t) - e^{-t} u(t) - e^{-t} u(t) \\ = \delta(t) - 2e^{-t} u(t) \quad (19)$$

(ε') Υπενθυμίζεται ότι το  $H(s)$  είναι το

$$H(s) = \frac{2}{(s-1)(s+1)(s-2)(s+2)}$$

Βλέπουμε ότι έχει πόλους στις θέσεις  $p = \pm 1, \pm 2$ . Το σύστημα Ελάχιστης Φάσης θα πάρει τους πόλους που βρίσκονται στο αριστερό ημιεπίπεδο, άρα θα είναι

$$H_{min}(s) = \frac{2}{(s+1)(s+2)}$$

ενώ το σύστημα All-pass θα πάρει τους εναπομείναντες πόλους. Όμως, επειδή τα All-pass συστήματα έχουν ίδιο αριθμό πόλων και μηδενικών, και μάλιστα είναι συμμετρικοί ως προς τον άξονα  $j\omega$ , το All-pass σύστημα θα είναι της μορφής

$$H_{ap}(s) = \frac{(s+1)(s+2)}{(s-1)(s-2)}$$

Όμως πρέπει τα δυο μηδενικά του All-pass συστήματος στο  $z = -1, -2$  να ακυρωθούν από το σύστημα Ελάχιστης Φάσης (βάζοντας δυο πόλους εκεί), ώστε το γινόμενο  $H_{min}(s)H_{ap}(s)$  να μας δίνει το  $H(s)$ . Άρα τελικά

$$H_{min}(s) = \frac{2}{(s+1)^2(s+2)^2} \quad (20)$$

και

$$H_{ap}(s) = \frac{(s+1)(s+2)}{(s-1)(s-2)} \quad (21)$$

και έτσι, πράγματι,

$$H(s) = H_{min}(s)H_{ap}(s) = \frac{2}{(s+1)^2(s+2)^2} \frac{(s+1)(s+2)}{(s-1)(s-2)} = \frac{2}{(s-1)(s+1)(s-2)(s+2)}$$

(ε') Επειδή το συνολικό σύστημα είναι ευσταθές, τότε ο μετασχ. Fourier υπολογίζεται μέσω του μετασχ. Laplace ως

$$\begin{aligned} H(\omega) &= H(s = \sigma + j\omega)|_{\sigma=0} \\ &= \frac{2}{(s-1)(s+1)(s-2)(s+2)} \Big|_{s=j\omega} \\ &= \frac{2}{(j\omega-1)(j\omega+1)(j\omega-2)(j\omega+2)} \\ &= \frac{2}{(-|j\omega+1|^2)(-|j\omega+2|^2)} \\ &= \frac{2}{(-(\omega^2+1))(-(\omega^2+4))} \\ &= \frac{2}{(\omega^2+1)(\omega^2+4)} \leq \frac{2}{(0+1)(0+4)} = \frac{1}{2} \end{aligned} \quad (22)$$

και άρα

$$H(\omega) \leq \frac{1}{2} \quad (23)$$

(ζ') Βλέπουμε ότι το  $H_3(s)$  έχει έναν πόλο στη θέση  $p = -1$  και ένα μηδενικό στη θέση  $z = 1$ , δηλ. είναι σε συμμετρικές θέσεις ως προς τον κατακόρυφο άξονα. Άρα το σύστημα αυτό είναι ένα All-pass σύστημα, και άρα η απόκριση πλάτους θα είναι μοναδιαία,  $|H_3(\omega)| = 1, \forall \omega$ . Εναλλακτικά,

$$|H(\omega)| = \frac{|j\omega-1|}{|j\omega+1|} = \frac{\sqrt{\omega^2+1}}{\sqrt{\omega^2+1}} = 1 \quad (24)$$

που αποδεικνύει το ζητούμενο.

3. Έστω ότι ένα σύστημα  $H(s)$  περιγράφεται από τη διαφορική εξίσωση

$$\frac{d^2}{dt^2}y(t) - \frac{d}{dt}y(t) - 2y(t) = x(t)$$

- (α') Υπολογίστε την κρουστική απόκριση  $h(t)$  του συστήματος όταν οι αρχικές συνθήκες είναι μηδενικές και
- το σύστημα είναι ευσταθές
  - το σύστημα είναι αιτιατό
- (β') Βρείτε την έξοδο,  $y(t)$ , του ευσταθούς συστήματος,  $H(s)$ , όταν η είσοδος είναι της μορφής  $x(t) = e^{-2t}u(t)$ .
- (γ') Βρείτε το αντίστροφο σύστημα,  $H_{inv}(s)$ .

Λύση:

(α') Θα είναι

$$\begin{aligned} \frac{d^2}{dt^2}y(t) - \frac{d}{dt}y(t) - 2y(t) &= x(t) \longleftrightarrow \\ s^2Y(s) - sy(0^-) - y'(0^-) - sY(s) + y(0^-) - 2Y(s) &= X(s) \\ Y(s)(s^2 - s - 2) &= X(s) \\ H(s) &= \frac{1}{s^2 - s - 2} \end{aligned}$$

και

$$H(s) = \frac{1}{s^2 - s - 2} = \frac{A}{s - 2} + \frac{B}{s + 1}$$

με

$$\begin{aligned} A &= H(s)(s - 2) \Big|_{s=2} = \frac{1}{s + 1} \Big|_{s=2} = \frac{1}{3} \\ B &= H(s)(s + 1) \Big|_{s=-1} = \frac{1}{s - 2} \Big|_{s=-1} = -\frac{1}{3} \end{aligned}$$

και άρα:

- i. Αν το σύστημα είναι ευσταθές, τότε το πεδίο σύγκλισης θα είναι το

$$R_H = \{-1 < \Re\{s\} < 2\} = \{\Re\{s\} > -1\} \cap \{\Re\{s\} < 2\} \quad (25)$$

Άρα

$$\begin{aligned} H_{stable}(s) &= \frac{A}{s - 2} + \frac{B}{s + 1} = \frac{1}{3} \frac{1}{s - 2} - \frac{1}{3} \frac{1}{s + 1} \longleftrightarrow \\ h_{stable}(t) &= -\frac{1}{3}e^{2t}u(-t) - \frac{1}{3}e^{-t}u(t) \end{aligned} \quad (26)$$

- ii. Αν το σύστημα είναι αιτιατό, τότε το πεδίο σύγκλισης θα είναι το  $\Re\{s\} > 2$ . Άρα

$$\begin{aligned} H_{causal}(s) &= \frac{A}{s - 2} + \frac{B}{s + 1} = \frac{1}{3} \frac{1}{s - 2} - \frac{1}{3} \frac{1}{s + 1} \longleftrightarrow \\ h_{causal}(t) &= \frac{1}{3}e^{2t}u(t) - \frac{1}{3}e^{-t}u(t) \end{aligned} \quad (27)$$



(β') Η έξοδος θα είναι της μορφής

$$Y(s) = H(s)X(s) = \frac{1}{(s-2)(s+1)}X(s) = \frac{1}{(s-2)(s+1)}\frac{1}{(s+2)} = \frac{A}{s-2} + \frac{B}{s+1} + \frac{C}{s+2}$$

με

$$\begin{aligned} A &= Y(s)(s-2)\Big|_{s=2} = \frac{1}{(s+1)(s+2)}\Big|_{s=2} = \frac{1}{12} \\ B &= Y(s)(s+1)\Big|_{s=-1} = \frac{1}{(s-2)(s+2)}\Big|_{s=-1} = -\frac{1}{3} \\ C &= Y(s)(s+2)\Big|_{s=-2} = \frac{1}{(s-2)(s+1)}\Big|_{s=-2} = \frac{1}{4} \end{aligned}$$

και άρα

$$Y(s) = \frac{1}{12}\frac{1}{s-2} - \frac{1}{3}\frac{1}{s+1} + \frac{1}{4}\frac{1}{s+2}$$

Επειδή το σύστημα έχει πεδίο σύγκλισης

$$R_H = \{-1 < \Re\{s\} < 2\}$$

και η είσοδος

$$R_X = \{\Re\{s\} > -2\}$$

η έξοδος θα έχει πεδίο σύγκλισης

$$R_Y = \{-1 < \Re\{s\} < 2\} = \{\Re\{s\} > -1\} \cap \{\Re\{s\} < 2\} \cap \{\Re\{s\} > -2\} \quad (28)$$

Άρα

$$\begin{aligned} Y(s) &= \frac{1}{12}\frac{1}{s-2} - \frac{1}{3}\frac{1}{s+1} + \frac{1}{4}\frac{1}{s+2} \longleftrightarrow \\ y(t) &= -\frac{1}{12}e^{2t}u(-t) - \frac{1}{3}e^{-t}u(t) + \frac{1}{4}e^{-2t}u(t) \end{aligned} \quad (29)$$

(γ') Το αντίστροφο σύστημα του  $H(s)$  θα είναι το

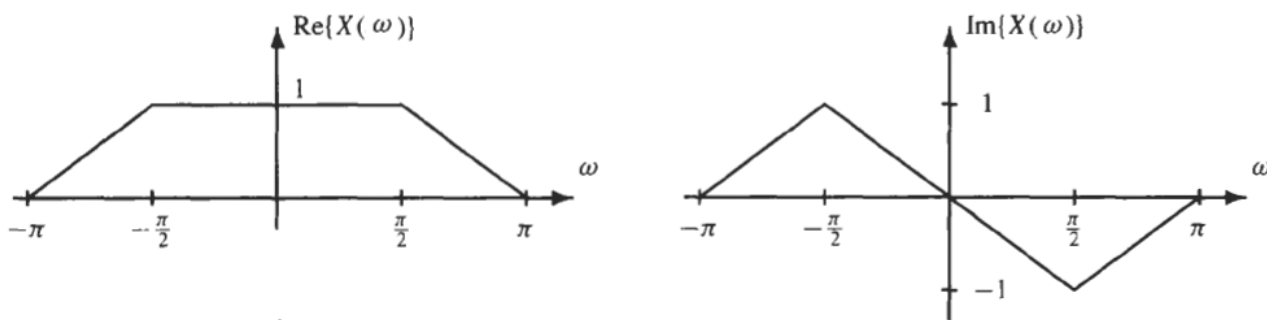
$$H_{inv}(s) = \frac{1}{H(s)} = s^2 - s - 2 = (s-2)(s+1) \quad (30)$$

και έχει ως πεδίο σύγκλισης όλο το μιγαδικό επίπεδο.

4. Το κέντρο βαρύτητας,  $C$ , ενός σήματος,  $x(t)$ , ορίζεται ως

$$C = \frac{\int_{-\infty}^{\infty} tx(t)dt}{\int_{-\infty}^{\infty} x(t)dt}$$

- (α') Βρείτε μια έκφραση για το  $C$  ως συνάρτηση του μετασχ. Fourier,  $X(\omega)$ , του σήματος  $x(t)$ .  
 (β') Υπολογίστε το  $C$  για το σήμα που έχει πραγματικό και φανταστικό μέρος μετασχ. Fourier όπως στο Σχήμα 4.



Σχήμα 4: Πραγματικό και Φανταστικό μέρος του Μετασχ. Fourier

- (γ') Υπολογίστε το κέντρο βαρύτητας  $C_x$  του σήματος  $x(t) = e^{-2t}u(t)$ . Έστω ότι το σήμα αυτό περνάει από το σύστημα με κρουστική απόκριση  $h(t) = 2\delta(t - 1)$  και παράγεται η έξοδος  $y(t)$ . Βρείτε το κέντρο βαρύτητας της εξόδου,  $C_y$ .

Λύση:

- (α') Παρατηρούμε ότι

$$\int_{-\infty}^{\infty} tx(t)dt = \int_{-\infty}^{\infty} tx(t)e^{-j\omega t}dt \Big|_{\omega=0} = F\{tx(t)\} \Big|_{\omega=0}$$

Από τους πίνακες του μετασχ. Fourier, βρίσκουμε ότι

$$tx(t) \longleftrightarrow j \frac{d}{d\omega} X(\omega)$$

και άρα

$$\int_{-\infty}^{\infty} tx(t)dt = j \frac{d}{d\omega} X(\omega) \Big|_{\omega=0}$$

Επίσης,

$$\int_{-\infty}^{\infty} x(t)dt = \int_{-\infty}^{\infty} x(t)e^{-j\omega t}dt \Big|_{\omega=0} = X(0)$$

Άρα τελικά

$$C = \frac{j \frac{d}{d\omega} X(\omega) \Big|_{\omega=0}}{X(0)} \quad (31)$$

(β') Προφανώς

$$X(\omega) = X_R(\omega) + jX_I(\omega) = \Re\{X(\omega)\} + j\Im\{X(\omega)\}$$

Άρα, από το Σχήμα 4, είναι

$$X(0) = X_R(0) + jX_I(0) = 1 + j0 = 1$$

και

$$j \frac{d}{d\omega} X(\omega) = j \frac{d}{d\omega} (X_R(\omega) + jX_I(\omega)) = j \frac{d}{d\omega} X_R(\omega) - \frac{d}{d\omega} X_I(\omega)$$

Αν παραγωγίσουμε τα γραφήματα και υπολογίσουμε το παραπάνω για  $\omega = 0$ , θα έχουμε

$$j \frac{d}{d\omega} X(\omega) \Big|_{\omega=0} = j \frac{d}{d\omega} X_R(\omega) \Big|_{\omega=0} - \frac{d}{d\omega} X_I(\omega) \Big|_{\omega=0} = 0 - \left(-\frac{2}{\pi}\right) = \frac{2}{\pi}$$

Οπότε η τιμή του  $C$  για το εν λόγω σήμα, το κέντρο βάρους του έχει τιμή

$$C = \frac{\frac{2}{\pi}}{1} = \frac{2}{\pi} \quad (32)$$

(γ') Είναι

$$x(t) = e^{-2t}u(t) \longleftrightarrow X(\omega) = \frac{1}{2 + j\omega}$$

και

$$\frac{d}{d\omega} X(\omega) = \frac{d}{d\omega} \frac{1}{2 + j\omega} = \frac{-(2 + j\omega)'}{(2 + j\omega)^2} = \frac{-j}{(2 + j\omega)^2}$$

και

$$X(0) = \frac{1}{2 + j\omega} \Big|_{\omega=0} = \frac{1}{2}$$

Άρα

$$C_x = \frac{j \frac{d}{d\omega} X(\omega) \Big|_{\omega=0}}{X(0)} = \frac{j \frac{-j}{(2+j\omega)^2} \Big|_{\omega=0}}{\frac{1}{2}} = \frac{\frac{1}{4}}{\frac{1}{2}} = \frac{1}{2} \quad (33)$$

Επίσης,

$$h(t) = 2\delta(t-1) \longleftrightarrow H(\omega) = 2e^{-j\omega}$$

Έχουμε ότι

$$Y(\omega) = H(\omega)X(\omega) = \frac{2}{2 + j\omega} e^{-j\omega}$$

και έτσι

$$\begin{aligned} \frac{d}{d\omega} Y(\omega) &= \frac{d}{d\omega} \frac{2}{2 + j\omega} e^{-j\omega} = \frac{(2e^{-j\omega})'(2 + j\omega) - (2 + j\omega)'2e^{-j\omega}}{(2 + j\omega)^2} \\ &= \frac{-2je^{-j\omega}(2 + j\omega) - 2je^{-j\omega}}{(2 + j\omega)^2} = \frac{(2 + j\omega) + 1}{(2 + j\omega)^2} (-2je^{-j\omega}) \end{aligned}$$

και άρα

$$j \frac{d}{d\omega} Y(\omega) \Big|_{\omega=0} = j \frac{(2 + j\omega) + 1}{(2 + j\omega)^2} (-2je^{-j\omega}) \Big|_{\omega=0} = \frac{(2 + j\omega) + 1}{(2 + j\omega)^2} (2e^{-j\omega}) \Big|_{\omega=0} = \frac{3}{2}$$

και

$$Y(0) = \frac{2}{2 + j0} e^0 = 1$$

και τελικά

$$C_y = \frac{j \frac{d}{d\omega} Y(\omega) \Big|_{\omega=0}}{Y(0)} = \frac{3}{2} \quad (34)$$

5. Να βρεθεί η ελάχιστη συχνότητα δειγματοληψίας για το σήμα

$$x(t) = \text{sinc}\left(\frac{at}{\pi}\right)$$

Λύση:

Γνωρίζουμε ότι

$$A \text{rect}\left(\frac{t}{T}\right) \longleftrightarrow AT \text{sinc}\left(\frac{\omega T}{2\pi}\right)$$

Επίσης γνωρίζουμε από την ιδιότητα της δεικνότητας ότι

$$x(t) \longleftrightarrow X(\omega) \quad \text{τότε} \quad X(t) \longleftrightarrow 2\pi x(-\omega)$$

Εφαρμόζοντας αυτή τη σχέση, θα έχουμε:

$$\begin{aligned} T \text{sinc}\left(\frac{tT}{2\pi}\right) &\longleftrightarrow 2\pi \text{rect}\left(\frac{-\omega}{T}\right) \\ \text{sinc}\left(\frac{tT}{2\pi}\right) &\longleftrightarrow \frac{2\pi}{T} \text{rect}\left(\frac{-\omega}{T}\right) \end{aligned}$$

Βλέπουμε ότι για  $a = \frac{T}{2}$  έχουμε τη σχέση της εκφώνησης, άρα

$$\text{sinc}\left(\frac{at}{\pi}\right) \longleftrightarrow \frac{\pi}{a} \text{rect}\left(\frac{-\omega}{2a}\right) = \frac{\pi}{a} \text{rect}\left(\frac{\omega}{2a}\right)$$

αφού η συνάρτηση  $\text{rect}()$  είναι άρτια. Προφανώς το παραπάνω  $\text{rect}()$  ορίζεται στη συχνότητα στο  $[-a, a]$ , οπότε η μέγιστη συχνότητά του είναι η  $\omega_{max} = a$ . Οπότε η ελάχιστη συχνότητα δειγματοληψίας για την πλήρη αναπαράσταση του σήματος από τα δείγματά του είναι η

$$\omega_s = 2\omega_{max} = 2a \tag{35}$$

που είναι και το ζητούμενο.

6. Έστω ένα ΓΧΑ σύστημα με κρουστική απόκριση  $h(t) = 2e^{-t}u(t)$  και στην είσοδό του εμφανίζεται το σήμα  $x(t) = 4 \cos(t + \pi/2)$ . Βρείτε την έξοδο  $y(t)$ . Τι παρατηρείτε;

Λύση:

Η είσοδος γράφεται

$$x(t) = 4 \cos(t + \pi/2) = 2e^{jt}e^{j\pi/2} + 2e^{-jt}e^{-j\pi/2}$$

Θα είναι, ως γνωστόν

$$h(t) = 2e^{-t}u(t) \longleftrightarrow H(\omega) = \frac{2}{1 + j\omega}$$

Άρα το πλάτος θα είναι

$$|H(\omega)| = \frac{2}{|1 + j\omega|} = \frac{2}{\sqrt{1 + \omega^2}}$$

ενώ για τη φάση θα έχουμε

$$H(\omega) = \frac{2}{1 + j\omega} = \frac{2(1 - j\omega)}{|1 + j\omega|^2} = \frac{2}{1 + \omega^2} - j \frac{2\omega}{1 + \omega^2} = \Re\{H(\omega)\} + j\Im\{H(\omega)\}$$

Άρα το σύστημα γράφεται ως

$$H(\omega) = |H(\omega)|e^{j \tan^{-1} \frac{\Im\{H(\omega)\}}{\Re\{H(\omega)\}}}$$

και άρα η φάση θα είναι

$$\phi(\omega) = \tan^{-1} \frac{\Im\{H(\omega)\}}{\Re\{H(\omega)\}} = \tan^{-1} \left( \frac{-\frac{2\omega}{1+\omega^2}}{\frac{2}{1+\omega^2}} \right) = \tan^{-1} \left( -\frac{\omega}{1} \right) = -\tan^{-1}(\omega)$$

Η έξοδος θα είναι προφανώς η συνέλιξη της εισόδου,  $x(t)$ , με το σύστημα,  $h(t)$ . Όμως η είσοδος είναι της μορφής

$$x(t) = 4 \cos(t + \pi/2) = 2e^{jt}e^{j\pi/2} + 2e^{-jt}e^{-j\pi/2}$$

Γνωρίζουμε ότι οι μιγαδικές εκθετικές συναρτήσεις αποτελούν ιδιοσυναρτήσεις του συστήματος, και έτσι, δεδομένου ότι το σύστημα είναι πραγματικό σήμα, η έξοδος  $y(t)$  δίνεται από τη σχέση:

$$\begin{aligned} y(t) &= 2H(1)e^{jt}e^{j\pi/2} + 2H(-1)e^{-jt}e^{-j\pi/2} \\ &= 2H(1)e^{jt}e^{j\pi/2} + 2H^*(1)e^{-jt}e^{-j\pi/2} \\ &= |H(1)|e^{j\phi(1)}e^{jt}e^{j\pi/2} + |H(1)|e^{-j\phi(1)}e^{-jt}e^{-j\pi/2} \\ &= 2|H(1)|e^{j(t+\pi/2+\phi(1))} + 2|H(1)|e^{-j(t+\pi/2+\phi(1))} \\ &= 4|H(1)|\cos(t + \pi/2 - \pi/4) \\ &= \frac{8}{\sqrt{2}}\cos(t + \pi/4) \end{aligned} \quad (36)$$

Παρατηρούμε ότι η έξοδος είναι πάλι ημιτονοειδής μορφή, όπως η είσοδος, και έχει επηρεαστεί από το σύστημα τόσο στο πλάτος της (πλάτος εισόδου 4, πλάτος εξόδου  $4|H(1)|$ ), όσο και στη φάση της (φάση εισόδου  $\pi/2$ , φάση εξόδου  $\pi/2 + \phi(4) = \pi/2 - \pi/4 = \pi/4$ ).

Γενικότερα, μπορούμε να παρατηρήσουμε και να χρησιμοποιούμε έτοιμο οτι:

Αν η είσοδος ενός ΓΧΑ συστήματος είναι της μορφής  $x(t) = A \cos(\omega_0 t + \theta)$ , τότε η έξοδος θα είναι της μορφής  $y(t) = A|H(\omega_0)| \cos(\omega_0 t + \theta + \phi(\omega_0))$ , όπου  $H(\omega) = |H(\omega)|e^{j\phi(\omega)}$  η απόκριση σε συχνότητα του συστήματος.

Προφανώς το παραπάνω μπορεί να γενικευτεί για άθροισμα ημιτόνων ως:

Αν η είσοδος ενός ΓΧΑ συστήματος είναι της μορφής  $x(t) = \sum_{k=1}^N A_k \cos(\omega_k t + \theta_k)$ , τότε η έξοδος θα είναι της μορφής  $y(t) = \sum_{k=1}^N A_k |H(\omega_k)| \cos(\omega_k t + \theta_k + \phi(\omega_k))$ , όπου  $H(\omega) = |H(\omega)|e^{j\phi(\omega)}$  η απόκριση σε συχνότητα του συστήματος.